


しいと問題


点線の枠にあるイラストを並び替え、空欄にあてはまる番号を入れてください。

【例題】

	→	②	→	④	→	③	→	①
---	---	---	---	---	---	---	---	---


① 	② 	③ 	④ 
---	---	--	---

【問題①】

	→	→	→	→
---	---	---	---	---

① 	② 	③ 	④ 
---	---	--	---

【問題②】

	→	→	→	→
---	---	---	---	---

① 	② 	③ 	④ 
---	---	--	---

答え

【問題①】 ③ → ① → ④ → ②

【問題②】 ② → ④ → ① → ③